



Путешествие в страну «Математика»

НАЧАЛО



Помоги
Нюше
сосчитать
цветы





Помоги белочке сосчитать, сколько бабочек на лужайке?


4

5



6



Молодец!!!



Не верно!!!



$1+8$

$2+8$

$5+5$

10

$6+4$

$3+6$


$7+2$

$1+9$

$4+6$

$7+3$

$5+4$



$$\bullet 5+7=...$$


12

10



2



Молодец!!!



Не верно!!!



• **2+8=...**


• 6

• 10



• 14



Молодец!!!



Не верно!!!



$$\bullet 4 + \dots = 10$$


$$\bullet \underline{7}$$

$$\bullet \underline{2}$$



$$\bullet \underline{6}$$



Молодец!!!



Не верно!!!





6



$2+5$



$5+3$



$4+2$







$3+4$



$1+5$









На эту фигуру ты
посмотри:
У нее углов всего
лишь три.
Ты назвать ее,
наверное, готов
По количеству углов.




Помоги волчонку узнать
геометрическую фигуру





Я фигура - хоть куда,
Очень ровная бываю
всегда,
Все углы во мне
равны
И четыре стороны.
Кубик - мой
любимый брат,
Потому что я...




Как тарелка, как
венчик,
Как веселый
колобок,
Как колеса, как
колечки,
Как пирог из теплой
печки!






Помоги мишутке вспомнить,
какая цифра следующая





Помоги мишутке вспомнить,
какая цифра следующая






Расставьте цифры на циферблате



Правильный ответ:



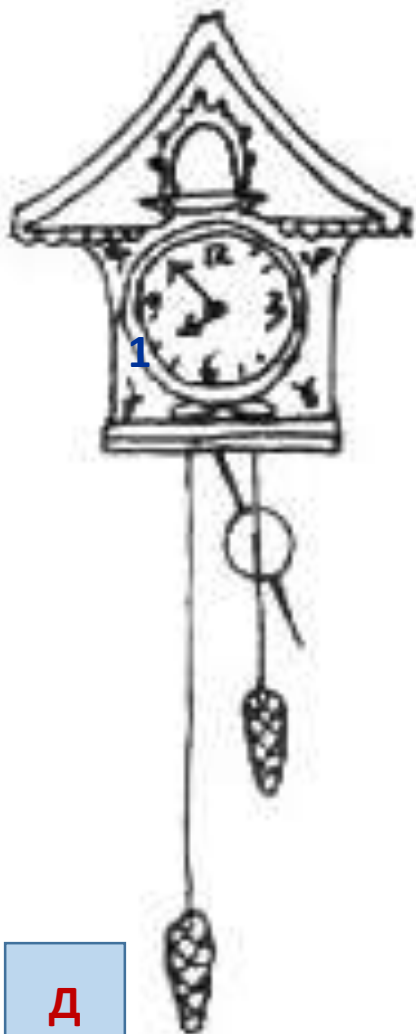
Д






**Под каким номерами часы,
которые показывают
одинаковое время?**

Правильный ответ: 4, 5




Д





МОЛОДЦЫ!!



НАЧАЛО